

⑨ どれがどの木の幹かな? 写真と名前を線でつなごう。



- -
 -
 -
 -
 -
 -
 -
- コジイ クスノキ アカマツ スギ

⑩ どの動物のしっぽかな? みんな3階に展示されているほ乳類です。



きしわだ自然資料館 見学ワークシート B

学校名:	年 組	名前:
------	-----	-----

① シカの角と名前を線でつなごう。このうち化石だけでみつかるのはどれかな?



- -
 -
 -
 -
 -
 -
 -
- サンバー ニホンジカ カトウキヨマサジカ

② 2種類の動物の名前は何だろう? そしてそれがいる場所は?

「山地」、「丘陵地」、「意賀見神社」、「ため池」、「平地」、「山から海へ」のどこかにいます。



動物の名前


場 所




動物の名前

場 所

③ アンモナイトとオウムガイの殻の中のようなすをかいてみよう



アンモナイト



オウムガイ

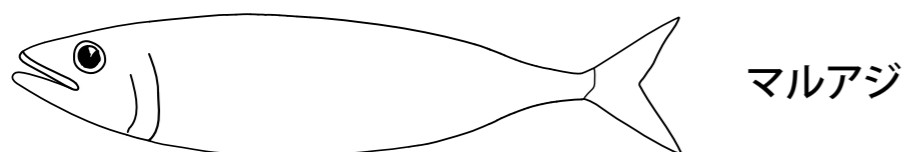
④ モササウルスがさかえていた時代はいつだったでしょう?

- | | | |
|-------------------------------------|----------------------------------|-------------------------------------|
| <input type="checkbox"/> 古生代石炭紀 | <input type="checkbox"/> 中生代ジュラ紀 | <input type="checkbox"/> 中生代白亜紀(前期) |
| <input type="checkbox"/> 中生代白亜紀(後期) | <input type="checkbox"/> 新生代古第三紀 | <input type="checkbox"/> 新生代第四紀 |

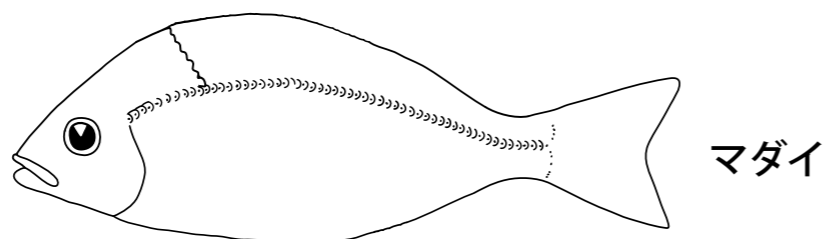
⑤ 魚のヒレをかいてみよう



マイワシ



マルアジ



マダイ

⑥ 2階に化石のレプリカが展示してある3種類の大きな動物って何だ?

動物の名前 1

動物の名前 2

動物の名前 3

⑦ 大阪層群で次のような足跡化石がみついている3種類の動物とは?



指が三つにわかれています

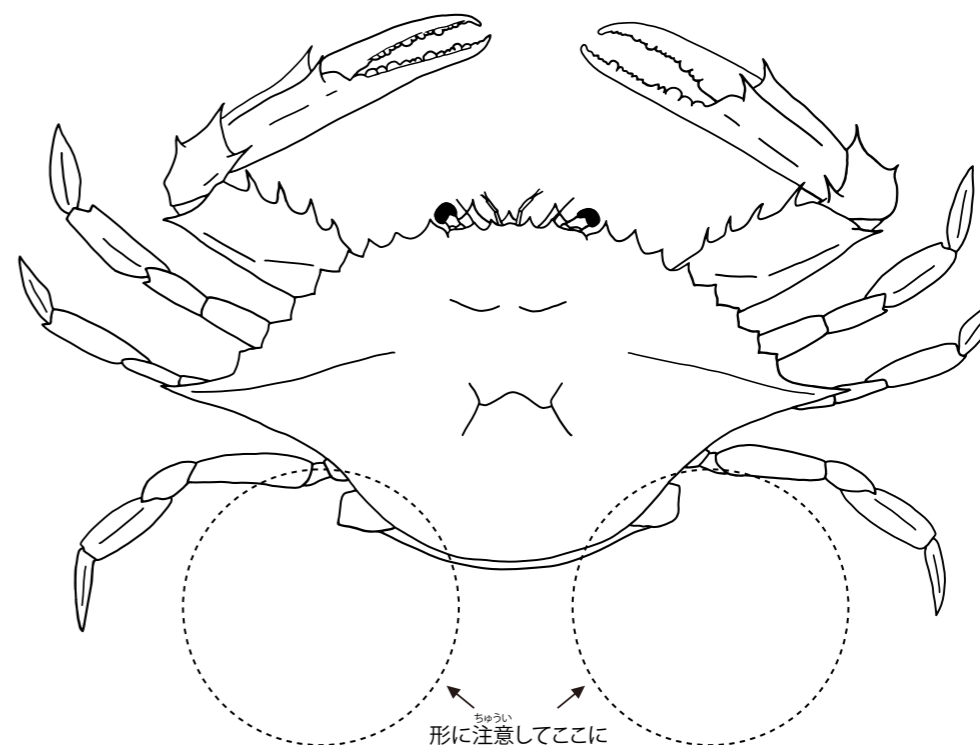


大きさは25~30cmあります



二又になっています

⑧ ガザミのいちばん後ろのあしをかき加えてみよう



形に注意してここにあしをかいてみよう